



Educadora Diferencial: Javiera Sarracina Araya (PIE)

**EVALUACION DIFERENCIADA  
HISTORIA, GEOGRAFÍA Y CIENCIAS SOCIALES**

**3°A-B**

<b>ALUMNO(A)</b>	<b>N° de LISTA</b>	<b>Nota:</b>
<b>ASIGNATURA:</b> Historia, Geografía y Ciencias Sociales		
<b>EDUCADORA DIFERENCIAL:</b> Javiera Sarracina Araya		
<b>CURSO:</b> 3°A Y B	<b>FECHA:</b>	
<b>PUNTAJE TOTAL :</b> 30 puntos	<b>PUNTAJE OBTENIDO:</b> 18	
<b>PORCENTAJE DE EXIGENCIA 60%</b>	<b>PUNTAJE MINIMO PARA LA NOTA 4.0:</b>	

**OBJETIVOS DE APRENDIZAJE Y/O APRENDIZAJE ESPERADO:**

Comparar modos de vida de la Antigüedad con el propio, considerando costumbres, trabajos y oficios, creencias, vestimentas y características de las ciudades, entre otros.

Asumir sus deberes y responsabilidades como estudiantes y en situaciones de la vida cotidiana, como cumplir con sus deberes escolares, colaborar en el orden y en la limpieza de los espacios que comparten con su familia, su escuela y su comunidad, cuidar sus pertenencias y las de los demás, preocuparse de su salud e higiene y ayudar en su casa.

**TIPO DE ADAPTACIÓN:** Mediación oral y escrita de ser necesario, apoyo imágenes.

**INSTRUCCIONES GENERALES DE LA EVALUACIÓN:**

- ✓ Escucha con atención cada ítem.
- ✓ Respetar fechas de entrega.
- ✓ Recordar nombre y apellido.

**CONFÍA EN TI MISMO ITÚ PUEDES!**



**¡¡¡¡¡COMENCEMOS...!!!!**

**Educar la mente  
sin educar al corazón  
no es educar en absoluto**

**Aristóteles**




Educadora Diferencial: Javiera Sarracina Araya (PIE)

- I. Escribe el significado de las siguientes palabras de la clase social romana.  
2 puntos cada uno (6 puntos en total)

Esclavos:
Plebeyos:
Patricios:

- II. Escucha o lee las siguientes preguntas y marca con una x la alternativa que consideres correcta. (1 punto cada una). 18 puntos en total.

1. Observando las siguientes imágenes, ¿Cuál es el coliseo romano?




2. Lugar en donde los romanos tomaban baños. Esta definición corresponde a:

- A. Acueducto
- B. Termas
- C. Teatro

Educadora Diferencial: Javiera Sarracina Araya (PIE)

3. ¿A qué construcción corresponde la siguiente imagen?



- A. Circo romano
- B. Arco del triunfo
- C. Parteón

4. De la civilización romana, una de las herencias que hemos recibido hasta hoy, y que sentó las bases del ordenamiento jurídico, ¿Cuál es?

- A. Derecho romano
- B. Latín
- C. Arquitectura

5. Gracias al derecho romano, en la actualidad podemos:

- A. Regirnos por leyes y normas
- B. Realizar nuestros deberes
- C. Discutir con los demás

6. Describe brevemente de que se tratan o a quien protegen las siguientes leyes:  
2 puntos cada una. ( 4 puntos en total).

Ley Cholito:

Ley Emilia:

Educadora Diferencial: Javiera Sarracina Araya (PIE)

7. Gracias a las leyes podemos:

- A. Hacer lo que queremos
- B. Convivir en armonía
- C. Cometer delitos pequeños

8. ¿cuál es principal objetivo de la Declaración de los Derechos del Niño?

- A. Proteger a todos los niños del mundo para que sean felices.
- B. Informar a los padres y madres sobre las necesidades de los niños.
- C. Cuidar a los niños y niñas de los países más pobres.

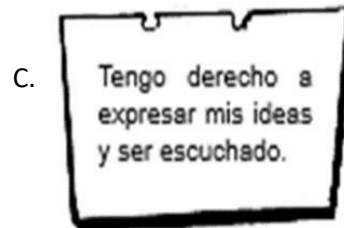
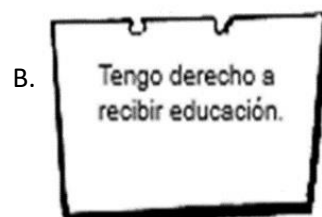
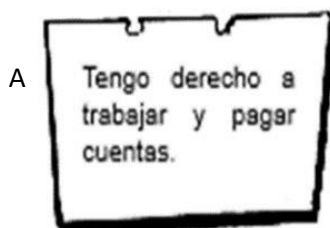
9. ¿Dónde no se están cumpliendo los derechos de los niños?



10. Los niños y niñas del 3° Básico del Colegio Parroquial de Andacollo fueron al Registro Civil junto a sus profesores para poder obtener su primer carnet de identidad ¿Con cuál Derecho del Niño está relacionada esta actividad?

- A. Derecho a educarse y jugar.
- B. Derecho a recibir amor y afecto.
- C. Derecho a tener un nombre y una nacionalidad.

11. ¿Qué carteles NO promueven los derechos de los niños?



Educadora Diferencial: Javiera Sarracina Araya (PIE)

12. ¿A qué derecho se refiere la siguiente imagen?



- A. Tengo derecho a recibir salud.
- B. Tengo derecho a la educación.
- C. Tengo derecho a portarme bien cuando voy al doctor.

13. Observa la siguiente y luego responde: 8 (2 puntos)



¿Se están respetando los derechos de este niño? Justifica tu respuesta.

14. ¿A qué institución puedo asistir si no se respetan mis derechos?

- A. Carabineros
- B. Bomberos
- C. Municipalidad

Educadora Diferencial: Javiera Sarracina Araya (PIE)

III. Encierra en un círculo y luego pintas las actitudes que tu consideras que contribuyen al autocuidado. 2 puntos cada uno (6 puntos en total)

