



## “EVALUACIÓN PROGRESIVA DE HISTORIA”

<b>ALUMNO(A)</b>	<b>N° de LISTA</b>	Nota:
<b>ASIGNATURA:</b> Historia, Geografía y Ciencias Sociales.		
<b>PROFESOR (A):</b> María Angélica Cisternas – Violeta Vega Godoy		
<b>CURSO:</b> 1°A y 1°B	<b>FECHA:</b> 14 de julio	
<b>PUNTAJE TOTAL:</b> 36 pts.	<b>PUNTAJE OBTENIDO:</b>	
<b>PORCENTAJE DE EXIGENCIA 60% PUNTAJE MINIMO PARA LA NOTA 4.0: 22 puntos</b>		
<p><b>Objetivos de Aprendizaje y/o aprendizaje esperado:</b></p> <ul style="list-style-type: none"> <li>✓ OA 2: Secuenciar acontecimientos y actividades de la vida cotidiana, personal y familiar, utilizando categorías relativas de ubicación temporal, como antes, después; ayer, hoy, mañana; día, noche; este año, el año pasado, el año próximo.</li> <li>✓ OA 14: Explicar y aplicar algunas normas para la buena convivencia y para la seguridad y el autocuidado en su familia, en la escuela y en la vía pública.</li> <li>✓ OA 15: Identificar la labor que cumplen, en beneficio de la comunidad, instituciones como la escuela, la municipalidad, el hospital o la posta, Carabineros de Chile, y las personas que trabajan en ellas.</li> </ul>		

I. Marca con una X la respuesta correcta. (1 pto. c/u, 40 puntos en total)

1. Si hoy es lunes, ¿Qué día fue ayer?

- A) Sábado.
- B) Domingo.
- C) Viernes.

2. Pablo compra hoy miércoles la entrada para ir al cine pasado mañana, ¿Qué día verá la película Pablo?

- A) Jueves.
- B) Viernes.
- C) Sábado.

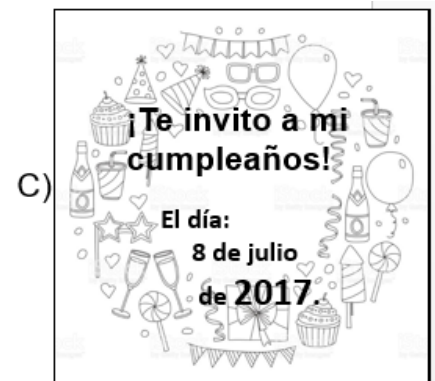
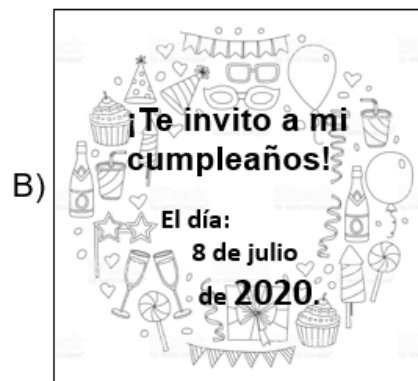

3. Camila y su familia estuvieron todo el fin de semana de paseo. Vieron hermosos lugares y se divertieron mucho. Casi de noche regresaron a sus casas muy contentos. ¿Cuándo salieron Camila y su familia?

- A) Un lunes por la tarde.
- B) El miércoles en la mañana.
- C) El sábado en la mañana.

4. El mes DE MARZO corresponde al:

- A) primer mes del año.
- B) inicio del año escolar en Chile.
- C) término del año escolar.

5. ¿Cuál invitación corresponde a este año?



6. Si Leticia está ahora en primero básico, ¿cuándo nacerá su hermanito?

Hola Alicia  
Te cuento que voy a tener un hermanito. Nacerá cuando yo esté en segundo básico. Estamos todos muy contentos.  
Con mucho cariño, Leticia

- A) Este año.
- B) El año pasado.
- C) El próximo año.

7. Observa las actividades que hace Carlos.

**DOMINGO**

Visita a los abuelos

**VIERNES**

Último día de clases

**SÁBADO**

Scout

¿Cuál es el orden correcto en que Carlos realizó estas actividades en la semana?

- A)**   
- B)**   
- C)**   



8. Observa el calendario y responde.

Lu	Ma	Mi	Ju	Vi	Sa	Do
						1
2	3	4	5	6	7	8
9	10	11	12	13	14	15
16	17	18	19	20	21	22
23	24	25	26	27	28	29
30	31					

FEBRERO						
Lu	Ma	Mi	Ju	Vi	Sa	Do
		1	2	3	4	5
6	7	8	9	10	11	12
13	14	15	16	17	18	19
20	21	22	23	24	25	26
27	28					

Lu	Ma	Mi	Ju	Vi	Sa	Do
		1	2	3	4	5
6	7	8	9	10	11	12
13	14	15	16	17	18	19
20	21	22	23	24	25	26
27	28	29	30	31		

¿Qué secuencia completa correctamente el nombre de los meses en este calendario?

- A) **ENERO** – Febrero – **MARZO**
- B) **MARZO** – Febrero – **ENERO**
- C) **DICIEMBRE** – Febrero – **ENERO**

9. Observa el calendario del mes de septiembre de este año.

SEPTIEMBRE						
Lu	Ma	Mi	Ju	Vi	Sa	Do
				1	2	3
4	5	6	7	8	9	10
11	12	13	14	15	16	17
18	19	20	21	22	23	24
25	26	27	28	29	30	

Las Fiestas Patrias se celebran el 18 y 19 de septiembre. ¿Qué días de la semana serán las Fiestas Patrias?

- A) Lunes y martes.
- B) Viernes y sábado.
- C) Sábado y domingo.

10. El nombre del último Mes del año es:

- A) Octubre.
- B) Noviembre.
- C) Diciembre

11. Carolina completó estos datos en una prueba.

NOMBRE: *Amalia Arancibia González*  
CURSO: *1° básico b*  
FECHA: *10 de noviembre del 2018*

¿Qué información sirve para conocer la identidad de Amalia?

- A) Fecha.
- B) Curso.
- C) Nombre.

12. ¿Cuál es el orden correcto de las actividades de esta niña al comenzar el día?

A)

--	--	--



B)

--	--	--

C)

--	--	--

13. En un día de semana Mauro realiza muchas actividades. ¿Cuál de las siguientes actividades es la última que hace aproximadamente al medio día?



14. Antes de dormir debo:



a)



b)



c)

15 . ¿Qué **costumbre** existe en la familia de Carolina?

- a) Vender galletas.
- b) Celebrar cumpleaños.
- c) Escribir tarjetas de Navidad.



Como todos los años, para el cumpleaños de su mamá, Carolina y su hermano mayor hicieron galletas y le escribieron una tarjeta.

16. Observa la imagen y responde.



Joaquín y sus amigos se reunieron a hacer un trabajo en su casa.

¿Qué actitud deben tener Joaquín y sus amigos para comportarse en forma respetuosa?

- A) Ordenar cuando terminen.
- B) Dejar los materiales en la mesa.
- C) Pedirle a la mamá de Joaquín que ordene.

17. Durante una cena familiar, Pedro desea una ensalada que está al otro extremo de la mesa. ¿Qué debe hacer Pedro?

- A) Gritar para que lo escuchen.
- B) Llorar para que se la pasen.
- C) Pedir por favor que se la acerquen.



18. Observa la imagen y responde.



¿Por qué este niño debe usar casco para andar en bicicleta?

- A) Para estar a la moda.
- B) Para que no lo reten.
- C) Para cuidar su salud.



19. La profesora le pidió al curso que escojan los carteles que les ayudarán a ser responsables dentro de la sala de clases. Marca con una **X** los carteles que debe seleccionar la profesora.



CUMPLO CON MIS  
TAREAS

a)



HABLO CUANDO  
TENGO GANAS

b)



TIRO PAPELES AL SUELO

c)

20. ¿Cuál de las siguientes características te diferencia de tus compañeros de curso?

- A) Nombre completo.
- B) Curso.
- C) Colegio.

21. Jaime y Marta son hermanos. Tienen el mismo apellido y viven en la misma casa, ciudad y país. ¿Cuál de las siguientes características los hace únicos a cada uno de ellos?

- A) Su historia familiar.
- B) La calle donde viven.
- C) Sus gustos personales y juegos preferidos.

22. Andrea y Alejandra son amigas del colegio. ¿En qué característica se parecen ellas?

- A) En el nombre y apellido.
- B) En su fecha de nacimiento.
- C) En su uniforme escolar.


23. El hermano de mi mamá es mí:

- A) Tío.
- B) Primo.
- C) Abuelo.

24. Los hijos de mi tía, son mis:

- A) Amigos.
- B) Hermanos.
- C) Primos.

25. Según la etapa de la vida en la que hoy estas. ¿Qué imagen te representa mejor?



A)



B)



C)

26. Pamela es una mujer que tiene hijos y nietos. Su piel ha envejecido, su pelo es canoso y tiene problemas a la visión. Hoy en día disfruta cuidando y regaloneando a sus nietos.

Según la descripción, ¿cuál será el aspecto físico de Pamela?



a)



b)




c)

27. Un compañero de curso me pide que juegue con él en el recreo. Él tiene su piel diferente a la mía y habla distinto. ¿Qué debo responder a su petición?

- A) Que no lo conozco, que le pida a otro compañero.
- B) Que sí, pero que no me vean mis amigos.
- C) Que sí y que jugaremos con otros compañeros.

28. ¿Cuál de las imágenes NO representa una norma de seguridad en la vía pública?



A)



B)




C)

29. Observa la imagen y responde.

¿En qué institución trabaja esta persona?

- A) Escuela.
- B) Hospital.
- C) Carabineros.



30. Observa la imagen y responde.


¿Qué pasaría si no existiera esta institución?

- A) No habría educación.
- B) El país sería menos seguro.
- C) No se podrían apagar los incendios.



31. ¿De qué forma aporta a la comunidad el trabajo de esta persona?

- A) Reparte cartas en las casas.
- B) Traslada productos al comercio.
- C) Transporta a muchas personas.



32. ¿Cuál de las siguientes personas NO tiene un trabajo remunerado?



A)



B)



C)

33. La ciudad donde vivo necesita estar limpia. ¿Cuál de las siguientes imágenes muestra a los encargados de este trabajo?



a)



b)



c)

34. Hoy me dolía mucho un diente. Mi mamá me revisó y se dio cuenta que tengo una carie. ¿A qué persona de las imágenes me llevará para resolver mi problema?



A)



B)



C)

35. Si de pronto voy por un camino y se corta un puente, ¿Qué institución es la que se preocupa de repararlo?

- A) La comisaría.
- B) La municipalidad.
- C) El hospital.

36. ¿Qué institución es la que tiene la función de cuidar nuestra salud y recuperarnos cuando estamos enfermos?



a)



b)



c)



**EVALUACIÓN PROGRESIVA DE HISTORIA 1ro básico**

<b>HOJA DE RESPUESTAS</b>		
Nombre: _____	Curso: _____	Nota: _____
Puntaje máximo: 36                      Puntaje obtenido _____                      Fecha: _____		

I. Selección Múltiple (36 pts.):

Instrucciones: Traspasa tus repuestas a esta hoja, marcando con una X.

	A	B	C
1			
2			
3			
4			
5			
6			
7			
8			
9			
10			
11			
12			
13			
14			
15			
16			
17			
18			
19			
20			

	A	B	C
21			
22			
23			
24			
25			
26			
27			
28			
29			
30			
31			
32			
33			
34			
35			
36			



ESTUDIANTE: Al finalizar esta evaluación, contesta junto a un adulto la escalera de la Metacognición.

# Escalera de la METACOGNICIÓN



**4** ¿En qué otras ocasiones puedo usarlo?



---

---

---

**3** ¿Para qué me ha servido?



---

---

---

**2** ¿Cómo lo he aprendido?



---

---

---

**1** ¿Qué he aprendido?



---

---

---