



Objetivo de la clase: Ampliar ámbito numérico hasta el 79

Ampliación del campo numérico de 0 a 79

1. Trabaja con tu compañero/a de banco y

Guíate por el ejemplo:

Junten las tarjetas con el número 40 y el 3, ¿Qué número de dos cifras formaron?



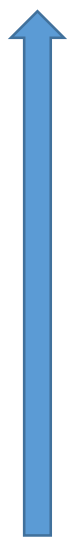
Con las tarjetas	¿Qué número se forma?
70 y 1	
70 y 2	
70 y 3	
70 y 4	
70 y 5	
70 y 6	
70 y 7	
70 y 8	
70 y 9	
40 y 2	
10 y 1	

Con las tarjetas	¿Qué número se forma?
50 y 5	
30 y 4	
40 y 9	
30 y 3	
60 y 1	
10 y 3	
40 y 8	
60 y 7	
30 y 6	
60 y 8	
10 y 5	

2. Completa la secuencia numérica hasta el 79.

41			44						50
		53							
	62								
71								79	

3. Completa las secuencias en forma ascendente.




60		62	63						
----	--	----	----	--	--	--	--	--	--

50		52							
----	--	----	--	--	--	--	--	--	--

60	62	64							
----	----	----	--	--	--	--	--	--	--

4. Completa las secuencias en forma descendente.



79	78								
----	----	--	--	--	--	--	--	--	--

50	49								
----	----	--	--	--	--	--	--	--	--

67	66	65							
----	----	----	--	--	--	--	--	--	--



5. Compara los números y escribe $>$, $<$ o $=$.

73 ___ 54

40 ___ 50

53 ___ 63

52 ___ 71

69 ___ 59

58 ___ 58

19 ___ 79

60 ___ 41

45 ___ 17

76 ___ 29

55 ___ 30

73 ___ 37

64 ___ 64

76 ___ 67

77 ___ 17

6. Escribe los números que van **antes**, **después** y **entre**.




53	54	55	56	57	58	59	60	61	62
----	----	----	----	----	----	----	----	----	----

___ está **antes** que 55

___ está **después** de que 61

___ está **entre** 67 y 69



61	62	63	64	65	66	67	68	69	70
----	----	----	----	----	----	----	----	----	----

___ está **antes** que 64

___ está **después** de que 69

___ está **entre** 65 y 67




71	72	73	74	75	76	77	78	79	80
----	----	----	----	----	----	----	----	----	----

___ está **antes** que 74


___ está **después** de que 75

___ está **entre** 78 y 80

7. Ordena los números de menor a **mayor**




52	63	14	75	46	74




72	73	31	25	56	60

8. Ordena los números de **mayor** a menor



70	55	73	65	36	75



70	20	50	30	10	60