



Objetivo: Determinar las unidades y decenas en números del 0 al 50.

"Decenas y unidades"

1. Dibuja:

1 decena de pelotas azules	1 decena de palos verdes
1 decena de triángulos naranjas.	1 decena de lápices negros

2. Agrupa una cantidad de objetos en decenas y píntalos.

2. Registra la cantidad de elementos de cada conjunto.

→

D	U

 →

→

D	U

 →

→

D	U

 →




→

D	U


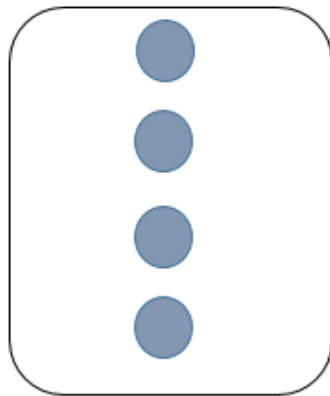

 →



4. Dibuja elementos para cada cantidad, realiza agrupaciones de a 10.



5. Dibuja para completar la decena.



6. Completa cada equivalencia con el número que corresponda.

a. 20 U equivalen a D

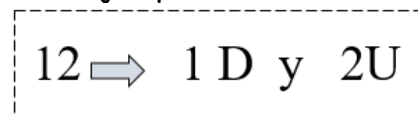
b. 10 U equivalen a D

c. 30 U equivalen a D

d. 40 U equivalen a D



7. Completa siguiendo el ejemplo.



a. 43 → D y U

d. 16 → D y U

b. 50 → D y U

e. 47 → D y U

c. 33 → D y U

f. 29 → D y U

8. Escribe las cantidades.

a. Dos decenas y cinco unidades = _____

b. Cinco decenas y dos unidades = _____

c. Cuatro decenas y siete unidades = _____

d. Una decena y una unidades = _____

e. Dos decenas = _____

f. Tres decenas y ocho unidades = _____