

EVALUACIÓN DE HISTORIA Y



GEOGRAFÍA

ALUMNO(A)	
ASIGNATURA: Historia, Geografía y Ciencias Sociales	
PROFESOR (A): Claudia Arancibia - Carolina Trigo	
CURSO: 2°A y 2°B	FECHA: Septiembre 2020
PUNTAJE TOTAL : 49	PUNTAJE OBTENIDO:
PORCENTAJE DE EXIGENCIA 60%	PUNTAJE MINIMO PARA LA NOTA 4.0: 29


Nota:

**OBJETIVO:**  
 Identificar principales características de los paisajes de Chile de la zona norte, centro y sur del país, observando imágenes, y utilizando diversas fuentes y un vocabulario geográfico adecuado.

Distinguir los diversos aportes a la sociedad chilena proveniente de los pueblos originarios (palabras, alimentos, tradiciones, costumbres, etc.) y de los españoles (idioma, religión, alimentos, costumbres, etc.) y reconocer nuestra sociedad como mestiza.

**INSTRUCCIONES GENERALES DE LA EVALUACIÓN:**

- ✓ Lee atentamente los ítems y relee para extraer la información importante.
- ✓ Lee las instrucciones de cada ítem para saber lo que debes hacer.
- ✓ Cuando termines revisa.



**iiii TRABAJA SEGURO(A) Y CONFIADO(A) DE TUS CAPACIDADES!!!!**

I. Responde las preguntas marcando la alternativa correcta con una equis (X): (1 pto. c/u 12 pts. en total)

1) La mayor parte de los chilenos vive en la zona:

- A) Norte
- B) Central
- C) Sur

2) La fauna que se destaca en la zona norte es:

- A) guanacos y vicuñas
- B) pumas y huemules
- C) coipo y pudú

**3 ) ¿En qué zona del país el relieve se caracteriza por presentar numerosos volcanes, lagos y ríos?**

- A) norte
- B) central
- C) sur

**4) ¿Cuántas zonas naturales tiene Chile?**

- a) 1
- b) 2
- c) 4

**5) La capital de Chile se encuentra en la zona:**

- A) norte
- B) central
- C) sur

**6) Qué zona de Chile presenta clima templado, es decir, los veranos son calurosos y secos y los inviernos fríos y lluviosos.**

- A) norte
- B) central
- C) sur

**7) ¿De qué país provenían los primeros conquistadores que llegaron a Chile?**

- A) De Brasil
- B) De México
- C) De España

**8). ¿Quién descubrió América?**

- A) Cristóbal Colón
- B) Arturo Pratt
- C) Pedro de Valdivia

**9) ¿En qué fecha fue descubierto América?**

- A) El 18 de septiembre de 1810
- B) El 12 de octubre de 1492
- C) El 30 de agosto de 1492

**9). ¿Por qué cambió la vida de los pueblos indígenas con la llegada de los españoles?**

- A) Porque los españoles les traspasaron parte de sus costumbres y de su cultura
- B) Porque se convirtieron en españoles
- C) Porque los españoles corrieron a todos los indígenas

**10). ¿Cómo se le llama a la mezcla entre españoles e indígenas?**

- A) Español-Indio
- B) Mestizaje
- C) Indio-Español

**11). ¿Qué sentían los españoles respecto de los indígenas?**

- A) Les tenían mucho cariño
- B) Sentían lástima por ellos
- C) Sentían temor de que se alzarán y les declararan la guerra

**12). ¿Qué personaje se quedó con su expedición en Chile para fundar las primeras ciudades?**

- A) Pedro de Valdivia
- B) Diego de Almagro
- C) Cristóbal Colón

**II.. Escribe a lo menos 5 alimentos que consumían los pueblos originarios y 5 que trajeron los españoles y que muchos de ellos han sido integrados a nuestra cocina tradicional chilena.(10 pts en total)**

Pueblo Indígena	Españoles
1	
2	
3	
4	
5	

### III. TÉRMINOS PAREADOS

¿Qué elementos han permanecido presentes en las culturas de estos pueblos?

1. A partir de la pregunta anterior, relaciona los pueblos de la columna A con las costumbres de la columna B. Anota el número del pueblo en la línea de las costumbres que le corresponde: (2 pt. c/u 6 pts. en total)

#### Columna A

1. Mapuches
2. Rapa Nuí
3. Aymara

\_\_\_\_\_ Domesticación de llamas y alpacas.

\_\_\_\_\_ Bailes como el sau sau, el ula ula y el tamuré.

\_\_\_\_\_ El machitún: ceremonia para curar a los enfermos

**IV. Lee las aseveraciones y anota una V si son verdaderas y una F si son falsas. (1 pt. c/u 11pts. en total)**

\_\_\_\_\_ Una de las razones principales por las que se produjo el mestizaje fue que los Españoles traían muy pocas mujeres.

\_\_\_\_\_ La ciudad de Santiago del Nuevo Extremo fue fundada en el año 1540.

\_\_\_\_\_ El mestizaje no produjo ningún tipo de cambio.

\_\_\_\_\_ El mestizaje produjo cambios en la alimentación.

\_\_\_\_\_ Pedro de Valdivia escribió una carta al rey de España para contarle acerca de  
la fundación de Santiago del Nuevo Extremo.

\_\_\_\_\_ La zona norte se caracteriza por grandes bosques de araucaria y roble.

\_\_\_\_\_ Nosotros vivimos en la zona central.

\_\_\_\_\_ En la zona norte llueve muy poco y su clima es desértico.

\_\_\_\_\_ Una importante actividad económica que se desarrollan en la zona norte es la actividad minera, especialmente de cobre .

\_\_\_\_\_ Los captus son las plantas más comunes de la zona sur.

\_\_\_\_\_ Debido a la forma larga y angosta de Chile, hay una gran variedad de paisajes.

V.Escribe a qué zona de Chile corresponde cada imagen. (6 ptos)



Zona

\_\_\_\_\_



Zona

\_\_\_\_\_



Zona

\_\_\_\_\_



Zona


\_\_\_\_\_

	
Zona <hr/>	Zona <hr/>

### Autoevaluación

Pinta o marca el


1. Terminaste la prueba completa



2. Necesitaste mucho apoyo



2. Te gusto el libro



3. Como te sentiste haciendo esta prueba

